

 DİJİTAL HOCA AKADEMİ

**KPSS**

KAMU PERSONEL SEÇME SINAVI

**GENEL YETENEK  
GENEL KÜLTÜR**

**DENEME  
SINAVI**

**6**

**ÇÖZÜM  
KİTAPÇIĞI**



## DİJİTAL HOCA **AKADEMİ**

Bu testlerin her hakkı saklıdır. Hangi amaçla olursa olsun, testlerin tamamının veya bir kısmının DİJİTAL HOCA YAYINLARI'nın yazılı izni olmadan kopya edilmesi, fotoğrafının çekilmesi, herhangi bir yolla çoğaltılması, yayımlanması ya da kullanılması yasaktır. Bu yasağa uymayanlar gerekli cezai sorumluluğu ve testlerin hazırlanmasındaki mali külfeti peşinen kabullenmiş sayılır.

1. Kılı kırk yarmak deyimini, bir konuyu tüm detaylarıyla, en ince ayrıntısına kadar inceleme anlamına gelmektedir. Altı çizili bölüme en yakın seçenek A seçeneğidir.

CEVAP: A

2. Parçada doksanlı yılların sanat anlayışı üzerinde durulurken, yazarın asıl anlatmak istediği konu ise doksanların sanat piyasasının çok kalabalık olmasına rağmen, zamanın bu sanatçıların çoğunu eleyerek unutturmasıdır.

CEVAP: C

3. Paragrafımızın asıl konusunu günümüzde popüler bir hâl alan magazin haberciliği oluşturmaktadır. III. cümle giriş cümlesini oluşturursa paragraf II-I-IV-V şeklinde devam eder ve cevabımız D seçeneği olur.

CEVAP: D

4. Parçada İshak Paşa Sarayı'nın özelliklerinden, nerede ve ne zaman kurulduğundan bahsedilmiştir. II ve III numaralı cümleleri yeri değiştirildiğinde paragrafın anlamsal bütünlüğü sağlanmış olur.

CEVAP: C

5. Parçadan A-B-D-E seçeneğindeki cümleleri dolaylı olarak çıkarsak da bunlardan kesin yargıya ulaşamayız. Paragraftan çıkarabileceğimiz kesin sonuç C seçeneğidir.

CEVAP: C

6. Verilen cümlenin doğru bir şekilde tamamlanabilmesi için birinci boşluğa "sonucunda" ikinci boşluğa ise "çakışması" kelimeleri getirilmelidir

CEVAP: A

7. Parçada çocukların erken yaşlarda yaşadıkları olayların, geleceklerini önemli bir şekilde etkilediği anlatılmaktadır. Bu ifadelerden yola çıkacak olursak D seçeneğine kesin olarak ulaşılabilmektedir.

CEVAP: D

8. I. cümlede geçen "sürprizlere hazırlıklı olun" ifadesi ile A seçeneğine II. cümlede geçen "sinesine toplanmış" ifadesiyle B seçeneğine, IV. cümlede geçen en ifadeyle D seçeneğine, V. cümlede geçen "gezimizi ertelemiştik" ifadesiyle E seçeneğine doğrudur diyebiliriz.

CEVAP: C

9. I, II, III ve IV cümlelerde çiğköftenin ne zaman ve niçin ortaya çıktığı anlatılmaktayken; V. cümlede ise çiğ köftenin anavatanından bahsederek konu dışına çıkarak, paragrafın anlamsal akışını bozmuştur.

CEVAP: E

10. Garbın ve Dediğin - sözcüklerinde, ünsüz yumuşaması Göğsüm ve Nasıl - sözcüklerinde, ünlü düşmesi Garbın-afakını, sözcüklerinde ulama Afakını sözcüğünde ise kaynaştırma harfi bulunmaktadır.

Dörtlüğümüzde ünlü daralması bulunmamaktadır.

CEVAP: E

## 11. Sanatçılar – Özne

İnsanlığın ortak malına dönüşmüş renk cümbüşü ve coşkun ırmaklar – **Belirtisiz Nesne**

Sunar – **Yüklem**

Bizlere – **Dolaylı Tümleç**

**CEVAP: C**

12. I. baş-la-y-**an** - sıfat-fiil eki almıştır.

II. öğren-**ci**-ler fiilden isim yapma eki

III. geç-**tıkce** zarf-fiil eki

IV. harca-y-**abilmek** (yeterlilik fiili)

V. baş-**la** yapım eki-r-**lar** çekim eki

**CEVAP: D**

## 13. V. Cümlede kullanılan, "olamayacak mıyım?" sözcüğünde ünlü daralmasını gerektirecek bir durum yokken, ünlü daralması yapılmış ve sözcük yanlış bir şekilde kullanılmıştır.

**CEVAP: E**

## 14. I-II-III-IV-V numaralı cümlelerde herhangi bir noktalama yanlışlığı bulunmamaktadır. I. cümlede bağlaçtan (çünkü) virgül getirilmesi yanlıştır.

**CEVAP: A**

## 15. Paragrafta A-B-D-E seçeneğindeki bilgilere dar kapsamda değinilmişken C seçeneğindeki bilgiler paragrafın asıl konusunu oluşturmaktadır.

**CEVAP: C**

## 16. Paragrafta yazarın asıl anlatmak istediği, günümüzde gerçek anlamda edebiyat eleştirisinin yok denecek kadar az olduğu ve yapılan eleştirilerin de amacı dışında yapıldığıdır. A seçeneğindeki bilgiler bunu açık bir şekilde ifade etmektedir.

**CEVAP: A**

## 17. Paragrafta, israfın olumsuz yönleriyle beraber, bankaların ve kredi kartlarının insanları borç batağına sürükleyerek insanların boşa para harcamalarına yol açtığı anlatılmaktadır. Bu doğrultuda A-B-C-D seçeneğindeki bilgiler paragraftan çıkarılabilirken; E seçeneğini çıkarılamamaktayız.

**CEVAP: E**

## 18. I ve II cümleden A seçeneğine, II. cümleden B seçeneğine, son cümledeki "bu teknikte" ifadesinden C seçeneğine, son cümledeki "günümüzde" ifadesiyle karşılaştırma yapıldığı için D seçeneğine ulaşabilmekteyiz.

**CEVAP: E**

## 19. Paragrafta, kıskançlığın sebeplerinden, iyi ve kötü yanlarından bahsedilmiştir. Bu bilgileri, A-B-C ve E seçeneklerinde bulabilirken D seçeneğindeki yargıya ulaşamamaktayız.

**CEVAP: D**

20. Paragrafın asıl konusu, kıskançlık duygusunun kötü bir şey olmasına rağmen, bazı durumlarda gerekli olduğu anlatılmıştır. Bu bilgileri C seçeneğinde açık bir şekilde görebilmekteyiz.

**CEVAP: C**

21. A seçeneğini I. cümleden, B seçeneğini II. cümleden, C seçeneğini III. cümleden D seçeneğini ise IV. cümleden çıkarabilmekteyiz. Paragrafta E seçeneğine değinilmemiştir.

**CEVAP: E**

22. III. cümlede "Depresyon; biyolojisi, tedaviye verdiği yanıtı, genetiği ve prognozu açısından karmaşık ve heterojenik bir yapı gösteren psikolojik bir durumdur." cümlesiyle tanımlama yapılmıştır.

**CEVAP: C**

23. A seçeneğini parçanın genelinden çıkarabilmekteyiz, B seçeneğini IV. cümleden, C seçeneğini II. cümleden, D seçeneğini ise V. cümleden çıkarabilirken E seçeneğiyle ilgili herhangi bir bilgiye paragraftan ulaşamamaktayız.

**CEVAP: E**

24. "Çadır en basit şekliyle uçları tepede bir halka (çingirak) etrafında birleştirilmiş sırtıklardan veya açılıp kapanabilen ahşap kafeslerden meydana getirilmekteydi." ifadesi III. cümlede geçmektedir.

**CEVAP: C**

25. I. cümlede "Çanakkale anısına" cümlesinde serginin amacı belirtilmiştir.

**CEVAP: A**

26. VI. cümlede "Sergiye şimdiden yoğun bir katılımın olacağını söylemek mümkün." ifadesinde tahmin söz konusudur.

**CEVAP: E**

**27,- 30 SORULARI İÇİN AÇIKLAMA**

	I. durum	II. durum
5	E, G	D
4	A	B, F
3	C	C
2	D	E, G
1	B, F	A

Dilek Fatih'ten bir sonraki katta inmiş Belma ve Fatih aynı hatta inmiş olduğundan Dilek, Belma ve Fatih'ten birlikte indiği katın bir üs katında asansörden inmiştir.

3. katta Canan tek başına indiğine göre, Belma ve Fatih ya 1. katta ya 4. katta asansörden birlikte inmişlerdir. Ahmet Efe'den bir önceki katta asansörden indiğinden tabloda 1. durumda 4 ve 5 katta 2. durumda ise 1. ve 2. katta asansörden inmişlerdir. Gül tabloda 1. durumda ise 1. veya 2. katta asansörden inmiş olabilir.

27. Belma 1. yada 4. katta asansörden inmiştir. 2. katta inemez.

**CEVAP: C**

28. Tabloda 1. durum göz önüne alındığında 1. katta kesinlikle 2 kişi inmiştir.

**CEVAP: E**

29. Ahmet tek başına iner.

**CEVAP: A**

30. Dilek inemez.

**CEVAP: D**

31.

$$\frac{(0,3)^2}{0,5} + \frac{(0,2)^2}{0,1}$$

$$\frac{\left(\frac{3}{10}\right)^2}{\frac{5}{10}} + \frac{\left(\frac{2}{10}\right)^2}{\frac{1}{10}} = \frac{9}{5} + \frac{4}{10}$$

$$\Rightarrow \frac{9}{10} \cdot \frac{10^2}{5} + \frac{4}{100} \cdot \frac{10}{1}$$

$$\Rightarrow \frac{18}{100} + \frac{40}{100} = \frac{58}{100} = 0,58 \text{ dir.}$$

CEVAP: D

32.

$$\sqrt[3]{0,8} \cdot (\sqrt[3]{1,25} - \sqrt[3]{0,64})$$

$$\sqrt[3]{0,8} \cdot \sqrt[3]{1,25} - \sqrt[3]{\frac{8}{10} \cdot \frac{64}{100}}$$

$$\Rightarrow \frac{10}{10} - \frac{8}{10}$$

$$\Rightarrow 1 - \frac{8}{10}$$

$$\Rightarrow \frac{2}{10} = 0,2$$

CEVAP: A

33.

$$\frac{(5!)^3 + (4!)^3}{(5!)^3 - (4!)^3}$$

$$\boxtimes \frac{(5 \cdot 4!)^3 + (4!)^3}{(5 \cdot 4!)^3 - (4!)^3}$$

$$\boxtimes \frac{5^3 (4!)^3 + (4!)^3}{5^3 \cdot (4!)^3 - (4!)^3}$$

$$\boxtimes \frac{(4!)^3 \cdot (5^3 + 1)}{(4!)^3 (5^3 - 1)} = \frac{126}{124} = \frac{63}{62}$$

CEVAP: B

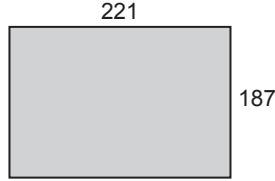
34. Sayılar aşağıdaki gibi seçilmelidir.

$$\underline{10} + \underline{10} + \underline{10} + \underline{12} + \underline{x} = 128$$

x = 86 bulunur.

CEVAP: D

35.



OBEB (187,221) = 17 iki ağaç arası mesafe)

Ağaç sayısı =  $\frac{\text{Dikdörtgenin çevresi}}{\text{İki ağaç arası mesafe}}$ 

$$\frac{2 \cdot 221 + 2 \cdot 187}{17} = \frac{2 \cdot 408}{17} = 48$$

Fakat uzun kenarlardan birine duvar yapılacağından,

$$\frac{221}{17} = 13 + 1 = 14 \text{ ağaç dikilemeyeceğinden}$$

48 - 14 = 34 ağaç dikilmelidir.

CEVAP: D

36.

$$\frac{x}{y} \cdot \frac{z}{t} = \frac{1}{4} \Rightarrow \frac{x}{y} = \frac{t}{4z}$$

$$\frac{x^2}{y^2} + \frac{t^2}{z^2} = 153 \Rightarrow \left(\frac{t}{4z}\right)^2 = 153$$

$$\Rightarrow \frac{t^2}{16z^2} + \frac{t^2}{z^2} = 153$$

$$\Rightarrow \frac{17t^2}{16z^2} = 153$$

$$\Rightarrow \sqrt{\frac{t^2}{z^2}} = \sqrt{9 \cdot 16}$$

$$\Rightarrow \frac{t}{z} = 12 \text{ olduğundan}$$

$$\Rightarrow \frac{z}{t} = \frac{1}{12} \text{ olur.}$$

CEVAP: C

$$37. \frac{x^3y^2 + x^2y^3}{x^2 - y^2} \cdot \frac{x^2 + y^2 - 2xy}{2x^2y - 2xy^2}$$

$$\frac{x^2y^2 \cdot (x+y)}{(x+y)(x-y)} \cdot \frac{(x-y)^2}{2xy(x-y)}$$

$$= \frac{xy}{2} \text{ 'dir.}$$

CEVAP: D

$$38. y - x < 0 \quad x + z < z$$

$$x + z < z \Rightarrow x < 0 \text{ (x negatif)}$$

$$z > 0 \text{ 'dir. } y - x < 0 \Rightarrow y < x \text{ olduğundan } z > x > y \text{ olur.}$$

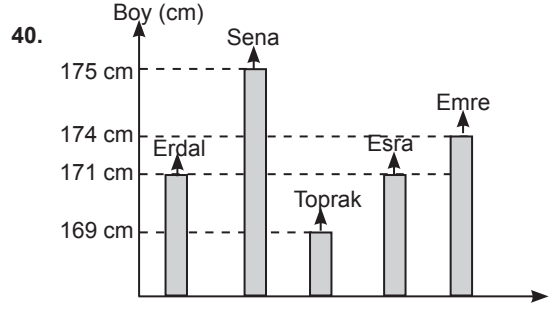
CEVAP: C

$$39. x^2 + |x| - 6 = 0 \quad |x| = 0 \Rightarrow x = 0$$

$x < 0$	$0$	$x > 0$
$x^2x - 6 = 0$	$x^2 + x - 6 = 0$	
$-3 + 2$	$+3 - 2$	
$x = -2$	$x \neq -3$	
	$x = 2$	

$$\text{Ç.k} = \{-2, 2\} \text{ 'dir.}$$

CEVAP: E



Buna göre Toprak'ın boyu 169 cm'dir.

CEVAP: D

$$41. f\left(f\left(\frac{a}{4}\right)\right) = -13$$

$$f\left(\frac{a}{4}\right) = 4 \cdot \frac{a}{4} - 5$$

$$= a - 5$$

$$f(a - 5) = -13$$

$$4 \cdot (a - 5) - 5 = -13$$

$$4a - 20 - 5 = -13$$

$$4a = -13 + 25$$

$$4a = 12$$

$$a = 3$$

CEVAP: E

$$42. 2^a = 5^b \text{ için}$$

$$2^{\frac{a}{b}} = 5 \text{ olur.}$$

$$2^{\frac{a+2b}{b}} = 2^{\frac{a}{b} + 2}$$

$$= 2^{\frac{a}{b} + 2}$$

$$= 2^{\frac{a}{b}} \cdot 4 \text{ için}$$

$$= 5 \cdot 4 = 20 \text{ bulunur.}$$

CEVAP: D

43.  $a < b < c$   
 $\downarrow \quad \downarrow \quad \downarrow$   
 $a \quad a+2 \quad a+4$

$$\left(1 + \frac{2}{a}\right) \cdot \left(1 + \frac{2}{b}\right) \cdot \left(1 + \frac{2}{c}\right) = \frac{19}{13}$$

$$\left(1 + \frac{2}{a}\right) \cdot \left(1 + \frac{2}{a+2}\right) \cdot \left(1 + \frac{2}{a+4}\right) = \frac{19}{13}$$

$$\left(\frac{a+2}{a}\right) \cdot \left(\frac{a+4}{a+2}\right) \cdot \left(\frac{a+6}{a+4}\right) = \frac{19}{13}$$

$$\frac{a+6}{a} = \frac{19}{13}$$

$$\Rightarrow 13a + 78 = 19a$$

$$\Rightarrow 6a = 78$$

$$a = 13$$

$$b = a + 2 \Rightarrow 13 + 2 = 15 \text{ 'dir}$$

CEVAP: C

44.

(TUR)	S	B	T	M	K
1.	2	3	4	5	6
2.	8	9	12	10	18
3.	14	15	16	20	24
4.	22	21	28	25	30
5.	26	27	32	35	36
6.	34	33	40		

Buna göre, 40 numaralı kutu turuncuya boyanmıştır.

CEVAP: C

45. Mavi renge boyalı 5 tane kutu vardır.

CEVAP: B

46.

	Tramvay	Dolmuş
Erkek	2x	x
Kadın	y+20	y
	360	240

$$2x + y + 20 = 360$$

$$\frac{x + y = 240}{2x + y = 340}$$

$$- \quad x + y = 240$$

$$x = 100 \text{ 'dür.}$$

CEVAP: A

47. Kafile sayısı toplam 100x olsun.

Ev sahibi	Konuk takım
(60x)	(40x)
1 dk'da 6 kişi	1 dk'da 1 kişi
20 dk'da 120	20 dk'da 20 kişi
$60x - 120 = \frac{(40x - 20)}{2}$	
$120x - 240 = 40x - 20$	
$80x = 220$	
$x = \frac{11}{4}$	
$100x = 100 \cdot \frac{11}{4} = 275 \text{ kişi}$	

CEVAP: C

48. Maaşı = 100x olsun

$$100x \cdot \frac{40}{100} = 40x$$

$$40x = 800 \cdot \frac{90}{100}$$

$$40x = 720$$

$$x = 18$$

Buna göre, maaşı  $100x = 100 \cdot 18$ 

$$= 1800 \text{ TL'dir.}$$

CEVAP: C



49. A 3 ayda 48 cm

1 ayda 16 cm

x ayda (16x) cm olur.

B 3 ayda 12 cm

1 ayda 4 cm

x ayda (36 + 4x) cm olur.

$$16x = 3 \cdot (36 + 4x)$$

$$16x = 108 + 12x$$

$$4x = 108$$

$$x = 27 \text{ dir.}$$

CEVAP: E

$$50. 500 \cdot \frac{2}{5} = 200$$

$$800 \cdot \frac{1}{2} = 400$$

$$\frac{200}{\%24} + \frac{400}{\%45} = \frac{600}{\%x}$$

$$200 \cdot 24 + 400 \cdot 45 = 600 \cdot x$$

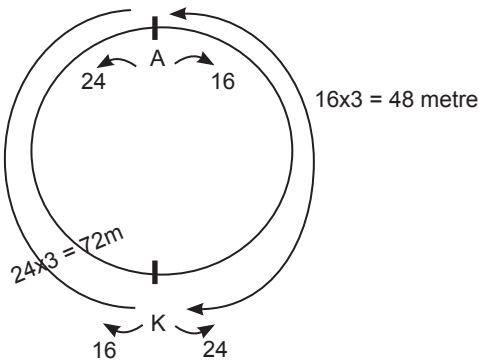
$$48 + 180 = 6x$$

$$228 = 6x$$

$$x = \%38 \text{ d'ür.}$$

CEVAP: D

51.



$$\text{Hızlı olan} \cdot \frac{48}{24} = 2 \text{ dk sonra A noktasına ulaşır.}$$

CEVAP: A

52. 2 saat pratik kurs alınsın.

$$240 + (x - 5) \cdot 6 = 150 + x \cdot 8$$

$$240 + 6x - 30 = 150 + 8x$$

$$60 = 2x \Rightarrow x = 30$$

CEVAP: A

53. Kadın Erkek

$$\begin{array}{ccc} \text{Kadın} & & \text{Erkek} \\ \text{(3k)} & & \text{(2k)} \end{array}$$

$$24 \xleftrightarrow{2br} 26 \xrightarrow{3br} 29$$

$$5k = 75$$

$$k = 15$$

$$\text{Kadın sayısı} = 3 \cdot 15 = 45 \text{ dir.}$$

CEVAP: D

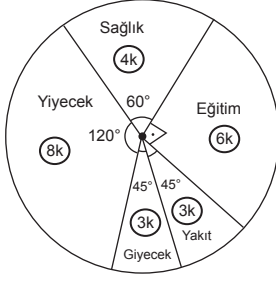
54. A ile B kümesinin ortak elemanı olan {d,e,f} A kümesinden çıkarıldığında kalan  $A = \{a,b,c\}$  kümesinin alt küme sayısı kadardır.

Buna göre,

$$2^3 = 8 \text{ dir.}$$

CEVAP: A

55.



$$480 \cdot \frac{5}{10} = 24 \text{ TL}$$

$$24k = 24 \Rightarrow k = 1$$

$$3k = 31 = 3 \text{ TL'dir.}$$

CEVAP: A

56.

$$300 \cdot \frac{4}{1000} = 12$$

$$244 = 12 \Rightarrow k = 1/2$$

$$\text{Yakıt } 3k = 3 \cdot \frac{1}{2} = 1,5 \text{ TL}$$

CEVAP: B

57.

① ② ③ ④ ⑤

(2,5)

(3,4) (3,5)

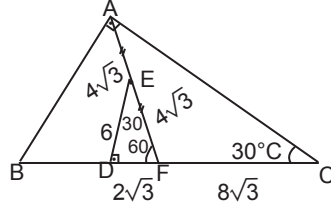
(4,3) (4,5)

(5,2) (5,3) (5,4)

$$\frac{8}{20} = \frac{2}{5} \text{ 'dir.}$$

CEVAP: C

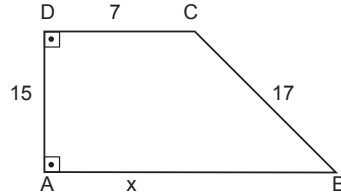
58.



Buna göre,  $|DC| = 10\sqrt{3}$

CEVAP: E

59.



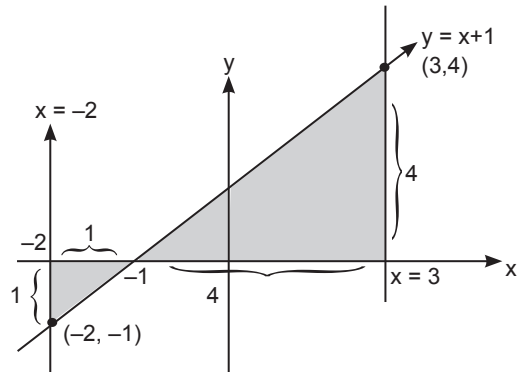
$$|HB|^2 + 15^2 = 17^2$$

$$|HB| = 8 \text{ 'dir.}$$

$$|AB| = 8 + 7 = 15 \text{ cm'dir.}$$

CEVAP: C

60.



$$\begin{aligned} \text{Alan} &= \frac{1 \cdot 1}{2} + \frac{4 \cdot 4}{2} \\ &= \frac{1}{2} + \frac{16}{2} \\ &= \frac{17}{2} \text{ cm}^2 \end{aligned}$$

CEVAP: D

1. İslamiyet öncesi Türk devletlerinde toplumsal yapı Oğuş (Aile) Urug (Sülale), Boy, Budun (Millet), İl (Devlet) şeklindedir. Yarlğ Hakan'ın emirlerine denir.

**CEVAP: C**

2. Peçenekler ve Oğuzlar Bizans ordusunda paralı askerlik yapmışlardır. Ayrıca peçenekler ve Oğuzlar Bizans ordusunda paralı askerlik yapmışlardır. Ayrıca Peçenekler Malazgirt Savaşı'nda taraf değiştirerek, Bizans ordusundan Selçuklu ordusuna geçmişlerdir.

**CEVAP: B**

3. Büyük Selçuklu Sultanı Sencer, Karahitaylarla yaptığı Katvan Savaşı'nda (1141) yenilmiş ve devlet yıkılmıştır.

**CEVAP: C**

4. Hicaz Bölgesi'ne hakim olan ilk Türk devleti Akşitler (İhşidler)'dir.

**CEVAP: B**

5. Muhyiddin İbnül Arabi Endülüste (İspanya) doğmuş, İslam Coğrafyasını gezmiştir. Anadolu'da tasavvufun kurucusu kabul edilir. Ayrıca Türk tarihinde tasavvufun kurucusu Ahmet Yesevi'dir.

**CEVAP: A**

6. Osmanlı Devleti'nde Nişancı; padişahın tuğrasını çeker. Yeni fethedilen toprakların kayıtlarını tutar. Tımarları dağıtır. Ayrıca memurların özlük haklarını düzenler. Ancak 17.yy'dan itibaren dış işlerini Reisülküttap'a bırakmıştır.

**CEVAP: C**

7. Osmanlı Devleti'nin haçlılarla yaptığı ilk savaş I. Murat döneminde Sırpsındığı Savaşıdır. II. Kosova savaşıyla II. Murat döneminde Balkanlar kesin Türk yurdu haline getirilmiştir. Mohaç Meydan Muharabesi ile Kanuni Macaristan'ı almıştır. Koyunhisar Savaşı Osman Bey döneminde, Osmanlı Devleti'nin Bizans'la yaptığı ilk savaştır.

**CEVAP: D**

8. Kırım 1774 Küçük Kaynarca Antlaşması ile bağımsız olmuştur. 1779 Aynalıkavak Tenkihnamesi ile Osmanlı Rus yanlısı Şahin Giray'ın Kırım Hanı olmasını kabul etmiştir. 1792 Yaş Antlaşması ile Osmanlı Devleti Kırımın Rusya'ya ait olduğunu kabul etmiş, Karadeniz Türk Gölü olmaktan tamamen çıkmış ve Osmanlı Dağılma dönemine girmiştir.

**CEVAP: A**

9. Askerliğe bir süre getirilmesi, vatan hizmeti sayılması ve azınlıklarında isterse askere gidebilecek olması Tazminat fermanı'nda yer almaktadır. Azınlıkların bedelli askerlik yapabilmesi ve cizye'nin kalkması ıslahat fermanı'nda yer alır.

**CEVAP: A**

10. Darüşşafaka (Şefkat yeri) 1863'te Sultan Abdülaziz zâminında kurulmuştur.

**CEVAP: C**

11. Osmanlı Devleti Trablusgarp'ın işgaline orduyla müdahale edemeyince bölgeye gazeteci kimliğiyle gizlice subaylar göndermiştir. Enver Paşa Hamdi Bey, M. Kemal ise Şerif Bey takma adlarını kullanmışlardır. M. Kemal Tanın Gazetesi yazarı olarak görünmüştür.

**CEVAP: B**

12. Müstakil Grup, 1945'te CHP'nin kendi içinde partiyi denetlemesi için parti içerisinde oluşturulmuştur.

**CEVAP: C**

13. Milli Mücadele'yi anlatan ilk roman Halide Edip Adıvar tarafından yazılan "Ateşten Gömlek"tir. Ayrıca Türk'ün Ateşle İmtihanı, Dağa çıkan Kurt eserleride kendisine aittir. Çocuk Davamız, İstiklal Harbimiz, Ermeni meselesi ve Paşaların Hesaplaşması eserleri ise Kazım Karabekir'e aittir.

**CEVAP: A**

14. Gediz Taarruzu Kuvayımille'e'nin başarısız taarruzdur. Aslıhanlar-Dumlupınar Muharebeleri, II. İnönü savaşından sonra düzenli ordunun başarısız taarruzudur. Büyük Taarruz ise düzenli ordu tarafından başarıyla sonuçlandırılmıştır.

**CEVAP: B**

15. 2012 yılında yapımına başlanan Doğu Anadolu Gözlemevi, Erzurum ilinde inşa edilmektedir. Erzurum'daki 3 bin rakımlı Konaklı Karakaya Tepeleri'ne Cumhurbaşkanlığı Strateji ve Bütçe Başkanlığı ile Atatürk Üniversitesi'nin desteğiyle kurulan Doğu Anadolu Gözlemevidir.

**CEVAP: B**

16. Fethi Okyar Şeyh Said isyanını bastıramadığı için görevden alınmış, yerine İsmet İnönü hükümeti atanmıştır.

**CEVAP: A**

17. 1919-1927 yılları arasını anlatan ve M.Kemal tarafından günlük olarak kaleme alınan NUTUK,1927 CHP kongresinde okunmuş ve iki cilt olarak basılmıştır. M.Kemal NUTUK'un dağıtım ve gelir hakkını Türk Hava Kurumu'na bırakmıştır. NUTUK'un en son sayfasında Gençliğe Hitabe vardır.

**CEVAP: B**

18. Kıta sahanlığı sorunu Yunanistan-Türkiye arasında bir sorundur.

**CEVAP: D**

19. Tevfik Rüştü Aras 1925-39 yılları arasında Dış İşleri Bakanlığı yapmıştır. Atatürk döneminde en uzun süre Dış İşleri Bakanlığı yapmıştır.

**CEVAP: A**

20. M.Kemal'in Asım Us takma adıyla hükümeti eleştirmek için yazdığı gazete Kurun gazetesidir.

**CEVAP: B**

21. Yunanistan ile yapılan Nüfus mübadelesinde İstanbul, Gökçeada, Bozcaada'da yaşayan Rumlar ve Batı Trakya'da yaşayan Türkler Etablı (Yerleşik) sayılarak, mübadele dışında tutulmuştur.

**CEVAP: C**

22. Cehennem Değirmeni adlı eser Hüseyin Rauf Orbay'a aittir. Mondros Ateşkesini ve o dönemin bunalımlı yıllarını anlatır.

**CEVAP: D**

23. Almanya 1945'te toplanan San Fransisco Konferansı ile resmen teslim olmuştur.

**CEVAP: D**

24. Türkiye BM emri ile Libya'ya asker göndermemiştir.

**CEVAP: D**

25. Küresel ısınmayı azaltmak amacıyla yapılan, Sera Gazı salınımını azaltma anlaşması Kyoto Protokolü 2005'te yürürlüğe girmiş, ABD, Çin ve Hindistan imzalamamıştır. Sözleşme 2012'de 2020'ye kadar uzatılmıştır.

**CEVAP: A**

26. Cevdet Sunay 1966'da Cemal Gürsel'in ölümüyle Cumhurbaşkanı seçilmiş ve 1973'e kadar bu görevi yürütmüştür.

**CEVAP: C**

27. 12 Eylül 1980 darbesinden sonra Milli Güvenlik Konseyi görevine Turgut Özal atanmıştır.

**CEVAP: D**

28. A) 33° Doğu boylamında yer alma başlangıç meridyenine göre konumu belirttiğinden matematik konum ile ilgilidir.

B) Kış mevsiminde güneş erken battığından gece süresi uzundur (Matematik konum).

C) Yaz mevsiminde 45° Doğu boylamının yerel saati ulusal saat olarak kullanılır. Ankara'nın yerel saati ulusal saatten 48' geridedir (Matematik konum).

Kış mevsiminde 30° Doğu boylamı ulusal saat olarak kullanılır. Fark 12'dir.

D) Afyon'a göre Ankara daha doğudadır. Dünya batıdan doğuya doğru döndüğünden güneş Ankara'da Afyondan önce doğar (Matematik konum).

E) Önemli kavşak noktasında yer alması özel konumu ile ilgilidir.

**CEVAP: E**

29. Türkiye'de ilk kurulan petrol rafinerisi Batman rafinerisidir. En büyük petrol rafinerisi ise Kırıkkale Orta Anadolu Petrol Rafinerisi'dir.

**CEVAP: A**

30. I. Küçük Menderes → Ege Bölgesi'nde sanayileşme ile birlikte kirlenmiştir.

III. Ankara Çayı → Ankara çevresinde sanayi ve yapılaşmanın artması ile kirlenmiştir.

IV → Asi nehri ise Suriye üzerinden Hatay'a ulaşarak Akdenize dökülür. Kirlilik fazladır.

Ancak; Dicle nehri Doğu Anadolu'dan kaynağını alarak Güney Doğu Anadolu'ya ulaşır. Çevresinde fabrika ve kentsel nüfus çok olmadığından kirlilik azdır. Zayıf suyu da aynı bölgeden kaynağını alarak Irak'ta Dicle ile birleşir. Çevresinde sanayi ve kent gelişimi az olduğundan kirlilik yoktur.

**CEVAP: C**

31. Tektonik depremlerin oluşması için aktif fay hatlarına ihtiyaç vardır. Sıcak su kaynakları bu hatlardan yeryüzüne çıkarlar.

**CEVAP: A**

32. Sel ve taşkınların önüne geçmek için arazinin amacına uygun olarak kullanılması gerekir. Oysa meralarda yapılacak bir tahribat doğal bitki örtüsünün ortadan kalkmasına yol açacağından arazinin yanlış kullanılması ile sel ve taşkın artacaktır.

**CEVAP: D**

33. K yöresinde geniş yapraklı ormanların fazla görülmesi sıcaklık ortalamasının yüksek olduğunu, L yöresinde iğne yapraklı ormanların görülmesi sıcaklık ortalamasının düşük olduğunu gösterir.

**CEVAP: C**

34. Haritaya göre;

I. Karayel  
IV. Poyraz  
V. Yıldız

Soğuk yerel  
rüzgarlardır.

II. Lodos  
III. Samyeli  
(Keşişleme)

Sıcak yerel rüzgarlardır. Ancak Lodos hem sıcaktır hem de deniz üzerinden geldiğinden bol yağış getirir.

**CEVAP: B**

35. Bursa, Adana, Ankara, İzmir ve İstanbul sosyo-ekonomik faaliyet çeşitliliği fazla olan kentlerimizdir.

Bu kentlerde ticaret, turizm, tarım, ulaşım, sağlık, eğitim faaliyetleri ile sanayi gelişmiştir. Buna bağlı olarak iş olanakları artan bu kentlere göç yaşanır ve nüfus artar.

**CEVAP: B**

36.

Yöre	Nüfuslanma Nedeni
Kıyı Ege	Sanayi
Gaziantep Çevresi	Sanayi
Eskişehir Çevresi	Sanayi
Kocaeli Yarımadası (İzmit, Adapazarı)	Sanayi

Doğu Karadeniz kıyılarında yoğun olarak gelişmiş bir sanayi kolu yoktur. Kıyı şeridinin yoğun nüfuslu olması iç kesimlerin dağlık olmasından kaynaklıdır.

**CEVAP: D**

37. Bir yörede fabrikaların kurulması bazen hammaddeye, bazen enerji kaynağına ve pazarlama ile ulaşım imkanlarının gelişmiş olmasına bağlıdır. Örneğin Batı Karadenizde iki demir-çelik fabrikasının kurulması enerji kaynağına yakınlık ile açıklanabilir.

Bu nedenle kağıt fabrikalarında tatlı su kaynakları ve hammadde olarak ağacın kullanılması Karadeniz Bölgesi'ni ön plana çıkarmıştır.

**CEVAP: A**

38. Antalya denize kıyısı olan bir şehrimizdir. K karayolu ağına dikkat edilirse ulaşım kıyından doğu-batı yönlü daha yoğun olarak gelişirken kuzeyden Torosların etkisi ile tek bir yol bağlanmıştır.

Kayseri bir ovada yer alır. Üstelik önemli ulaşım yollarının kavşak noktasında yer alır. Düz bir alana sahip Kayseri'ye her yönden bağlantı sağlanabildiğinden L şehri Kayseri'yi temsil etmektedir.

**CEVAP: B**

39. A) Ankara, Samsun'a göre güneyde yer alır. Güneyden Samsun kıyısına ancak Canik dağları aşılarak varılır.

B) Samsun, Artvin'e göre batıdadır. Dağlar doğu-batı yönlü uzandığundan sahil yolu bu yönde uzanmaktadır.

C) Samsun'dan sahil boyunca Artvin'e gidildiğinde sol tarafımız Karadeniz'i, sağ tarafımız Karadeniz dağlarını gösterir.

D) Havadaki nem oranının az olması beklenemez çünkü sahil yolu boyunca hareket edilmektedir. Bu kıyılarda nem ve sıcaklık isteği fazla olan geniş yapraklı ormanlar bulunur. İğne yapraklı ağaçlar yoktur.

E) Karadeniz Bölgesi'nde dağlar hemen kıyından başlar ve engebelidir. Bu nedenle tünel, köprü, viyadük ihtiyacı fazladır.

**CEVAP: D**

40.

Kent	Sanayi
İzmir	Ege Bölgesi'nde tütün yetiştirilir. Bu nedenle hammaddeye yakın sigara fabrikası vardır.
Adana	Pamuk yetiştirilir. Dokuma fabrikası vardır.
Batman	Petrol çıkarılır. Dolayısı ile petrokimya sanayisi vardır.
Elazığ	Demir ve krom yatakları vardır. Bunu işleyen bir tesis de vardır.

Kayseri'de ise mobilyanın hammaddesi ağaç bulunmadığı halde mobilya sanayi gelişmiştir.

**CEVAP: B**

41. Geliri yüksek olan fındık Giresun'da, çey ise Rize ve Trabzon'da yetiştirilir.

Gümüşhane ve Bayburt'ta ön plana çıkan gelir getiren bir tarım ürünü yoktur.

**CEVAP: E**

42. Nükleer santraller çevre kirliliğine yol açarak doğal dengeyi bozmaktadır. İş olanakları (istihdam) artacağından kişi başı düşen gelir de yükselecektir.

Ancak yapay göçle kaybedilen nüfus artmaz aksine iş olanakları ve yatırımlar artacağından kazanılan nüfus artar.

**CEVAP: E**

43. Güneş enerjisi elde edilebilmesi güneşlenme süresinin fazla olmasına bağlıdır.

Menteşe Yöresi (Muğla), Biga Yarımadası (Çanakkale) Tuz Gölü Çevresi (Konya), Taşeli ve Teke Yöreleri (Mersin-Antalya) güneşlenme fazla olduğundan kurulacak kolektörden daha fazla elektrik elde edilir.

Ancak Kastamonu yöresinde bulutluluk ve yağış düzenli olduğundan diğerlerine göre enerji üretimi daha az olacaktır.

**CEVAP: A**

44. Ramsar Projesi'ne en son dahil olan göl Bitlis'de bulunan Nemrut Gölü'dür.

**CEVAP: E**

45. Dış ticaret hacmi 1980'den 1981 yılına geçildiğinde azalmıştır. Bu nedenle dış ticaret hacmi sürekli olarak artmamıştır.

**CEVAP: E**

46. 1876 – 1909 – Kanun-i Esasi

1909 – 1921 – Kanun-i Esasi

1876 – 1921 – Kanun-i Esasi

1921 – 1924 –1921 Teşkilat-ı Esasi ve eksiklerinde kanun-i Esasi

**CEVAP: D**

47. Halkın belirli şartlar ve durumlarda yönetime doğrudan katılımını ifade eden yarı doğrudan demokrasi uygulamaları:

- Halk oylaması
- Halk vetosu
- Halk girişimi
- Temsilcilerin azli

**CEVAP: E**

48. Uyarı, kınama, meslekten men, kademe durdurma ve maaş kesim idari cezalar olarak ifade edilirken, müebbet hapis adli ceza türüdür.

**CEVAP: A**

49. Bir ülkede olması gereken, akla ve insan doğasına en uygun hukuk olarak ifade edilen hukuk türüne TABİİ HUKUK (ideal) denir. Tabii hukuk, insanların zihin ve vicdanında yer etmiş, ulaşılmak istenen ideallerdir.

**CEVAP: B**

50. Kişinin, yurt dışına çıkma hürriyetinin engellenebileceği durumlar:

- Ceza soruşturma ve kovuşturması
- Hakim kararı

**CEVAP: D**

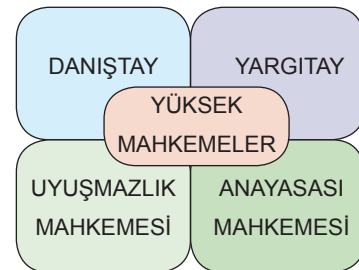
51. Bir yasama dönemi içinde TBMM Başkanlık divanı için iki seçim yapılır.

**CEVAP: D**

52. Kanun tasarısı veya kanun tekliflerinin TBMM Genel Kurulu'nda kabul edilmemesi halinde aynı teklif yada tasarısı ret tarihinden itibaren bir yıl geçmedikçe TBMM ye yeniden verilemez.

**CEVAP: A**

53. Yüksek mahkemeler aşağıdaki tabloda gösterilmiştir:



Sayıştay yüksek mahkemeler arasında sayılmamıştır.

**CEVAP: B**

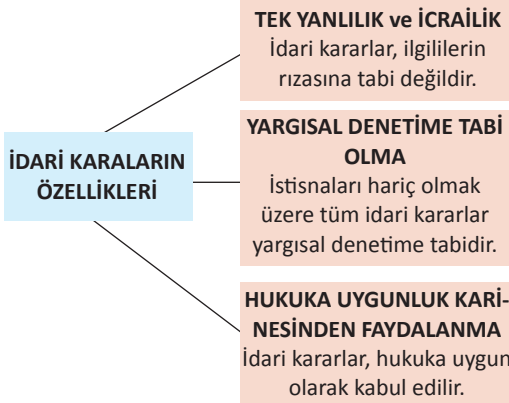
54. Anayasa mahkemesi kararlarının özellikleri şu şekildedir:

- Anayasa mahkemesinin kararları kesindir.
- Anayasa mahkemesinin kararları resmi gazetede yayımlanır.
- Anayasa mahkemesinin kararları HERKES İÇİN bağlayıcıdır.
- Anayasa mahkemesinin kararları gerekçeli olarak yazılır.
- Anayasa mahkemesinin iptal kararları geriye yürümez.

Sayılan özelliklerden de anlaşılacağı üzere anayasa mahkemesinin kararları sadece başvuran açısından değil, herkes için bağlayıcı özellik gösterir.

CEVAP: B

55.



İdari kararlar kesin nitelikte olmayıp, yargısal denetime tabidir. (istisnalar mevcuttur)

CEVAP: C

56. Türkiye, BAB, INTERPOL, BIS VE İKB üyesi iken, Nordik Konseyi'ne üye değildir.

CEVAP: D

57. Türkiye'nin Üyesi Olmadığı Uluslararası Kuruluşlar;

- Avrupa Birliği
- Petrol İhraç Eden Ülkeler Örgütü (OPEC)
- Arap Petrol İhraç Eden Ülkeler Örgütü (OAPEC)
- Kuzey Amerika Serbest Ticaret Bölgesi (NAFTA)
- Latin Amerika Serbest Ticaret Bölgesi (LAFTA)
- Gelişmiş 8 Ülke (G-8)
- Avrupa Serbest Mübadele Birliği (EFTA)
- Nordik Konseyi
- Arap Para Fonu (AMF)

CEVAP: E

58. Çakmak Çakmağa Geldik", "Ayaz Geceler" ve "Neden Geldim İstanbul'a" eserleri başta olmak üzere pek çok albüme imza atan Türk halk müziği sanatçısı ve oyuncu Burhan Çaçan, 12 Ocak'ta hayatını kaybetti. Çaçan, 63 yaşında hayata gözlerini yumdu.

CEVAP: A

59. Tamamı deniz dolgusu Türkiye'nin ilk havalimanı Ordu - Giresun Havalimanı'dır

CEVAP: C

60. Aralık 2014 te Endonezya'dan havalandıktan sonra jawa Denizi'ne düşen uçak Singapore'ye gitmekteydi

CEVAP: A