

## 1. Bu kitapçıkta 60 sorunun çözümü bulunmaktadır.

1. Kılı kırk yarmak deyimi, bir konuyu tüm detaylarıyla, en ince ayrıntısına kadar inceleme anlamına gelmektedir. Altı çizili bölüme en yakın seçenek A seçeneğidir.  
**CEVAP: A**
2. Parçada doksanlı yılların sanat anlayışı üzerinde durulurken, yazarın asıl anlatmak istediği konu ise doksanların sanat piyasasının çok kalabalık olmasına rağmen, zamanın bu sanatçıların çoğunu eleyerek unutturmasıdır.  
**CEVAP: C**
3. Paragrafımızın asıl konusunu günümüzde popüler bir hâl alan magazin haberciliği oluşturmaktadır. III. cümle giriş cümlesini oluşturursa paragraf II-I-IV-V şeklinde devam eder ve cevabımız D seçeneği olur.  
**CEVAP: D**
4. Parçada İshak Paşa Sarayının özelliklerinden, nerede ve ne zaman kurulduğundan bahsedilmiştir. II ve III numaralı cümlelerin yeri değiştirildiğinde paragrafın anlamsal bütünlüğü sağlanmış olur.  
**CEVAP: C**
5. Parçadan A-B-D-E seçeneğindeki cümleleri dolaylı olarak çıkarırsak da bunlardan kesin yargıya ulaşamayız. Paragraftan çıkarabileceğimiz kesin sonuç C seçeneğidir.  
**CEVAP: C**
6. Verilen cümlelerin doğru bir şekilde tamamlanabilmesi için birinci boşluğa "sonucunda" ikinci boşluğa ise "çakışması" kelimeleri getirilmelidir.  
**CEVAP: A**
7. Parçada çocukların erken yaşlarda yaşadıkları olayların, geleceklerini önemli bir şekilde etkilediği anlatılmaktadır. Bu ifadelerden yola çıkacak olursak D seçeneğine kesin olarak ulaşılabilmektedir.  
**CEVAP: D**
8. I. cümlede geçen "sürprizlere hazırlıklı olun" ifadesi ile A seçeneğine II. cümlede geçen "sinesine toplanmış" ifadesiyle B seçeneğine, IV. cümlede geçen en ifadeyle D seçeneğine, V. cümlede geçen "gezimizi ertelemeştik" ifadesiyle E seçeneğine doğrudur diyebiliriz.  
**CEVAP: C**
9. I, II, III ve IV cümlelerde çiğ köftenin ne zaman ve niçin ortaya çıktığı anlatılmaktayken; V. cümlede ise çiğ köftenin ana vatanından bahsedilerek konu dışına çıkarılmış, paragrafın anlamsal akışı bozulmuştur.  
**CEVAP: E**
10. Garbın ve dediğin - sözcüklerinde, ünsüz yumuşaması Göğsüm ve nasıl - sözcüklerinde, ünlü düşmesi Garbın-afakını, sözcüklerinde ulama Afakını sözcüğünde ise kaynaştırma harfi bulunmaktadır. Dörtlülükümüzde ünlü daralması bulunmamaktadır.  
**CEVAP: E**
11. Sanatçılar – **Özne**  
İnsanlığın ortak malına dönüşmüş renk cümbüşü ve coşkun ırmaklar – **Belirtisiz Nesne**  
Sunar – **Yüklem**  
Bizlere – **Dolaylı Tümleç**  
**CEVAP: C**
12. I. baş-la-y-**an** - sıfat-fil eki almıştır.  
II. öğren-**ci**-ler fiilden isim yapma eki  
III. geç-**tıkce** zarf-fil eki  
IV. harca-y-**abilmek** (yeterlilik fiili)  
V. baş-**la** yapım eki-r-**lar** çekim eki  
**CEVAP: D**
13. V. cümlede kullanılan, "olamayacak mıyım?" sözcüğünde ünlü daralmasını gerektirecek bir durum yokken, ünlü daralması yapılmış ve sözcük yanlış bir şekilde kullanılmıştır.  
**CEVAP: E**
14. II-III-IV-V numaralı cümlelerde herhangi bir noktalama yanlışlığı bulunmamaktadır. I. cümlede bağlaçtan önce (çünkü) virgül getirilmesi yanlıştır.  
**CEVAP: A**
15. Paragrafta A-B-D-E seçeneğindeki bilgilere dar kapsamda değinilmişken C seçeneğindeki bilgiler paragrafın asıl konusunu oluşturmaktadır.  
**CEVAP: C**
16. Paragrafta yazarın asıl anlatmak istediği, günümüzde gerçek anlamda edebiyat eleştirisinin yok denecek kadar az olduğu ve yapılan eleştirilerin de amacı dışında yapıldığıdır. A seçeneğindeki bilgiler bunu açık bir şekilde ifade etmektedir.  
**CEVAP: A**

**Genel Yetenek Testi****Çözüm 1**

17. Paragrafta, israfın olumsuz yönleriyle beraber, bankaların ve kredi kartlarının insanları borç batağına sürükleyerek insanların boşa para harcamalarına yol açtığı anlatılmaktadır. Bu doğrultuda A-B-C-D seçeneğindeki bilgiler paragraftan çıkarılabilirken; E seçeneğini çıkaramamaktayız.

**CEVAP: E**

18. I ve II cümleden A seçeneğine, II. cümleden B seçeneğine, son cümledeki "bu teknikte" ifadesinden C seçeneğine, son cümledeki "günümüzde" ifadesiyle karşılaştırma yapıldığı için D seçeneğine ulaşabilmekteyiz.

**CEVAP: E**

19. Parçadaki "Prefrontal korteks ise beynin sonradan gelişen akılcı yönetici beyin bölgesidir." cümlesinden "A" seçeneğine, "Bu bölgenin aktif devrede olduğu insanlar ve toplumlar; sorunlarını akılcı, insancıl, paylaşımcı yöntemlerle çözer." cümlesinden "B" seçeneğine, "Eğer beynin bu bölgesi sistemli olarak uyarılırsa korku ve öfke devreye girer ve canlıyı yönetir." cümlesinden "C" seçeneğine, "Bu bölgenin (prefrontal korteks) aktif devrede olduğu insanlar ve toplumlar; sorunlarını akılcı, insancıl, paylaşımcı yöntemlerle çözer." cümlesinden "E" seçeneğine ulaşılabilir. Parçada "Prefrontal korteksi gelişmiş insanların öfkesi aklın bilinçli öfkesidir." yargısına ulaşılabilecek veri yoktur.

**CEVAP: D**

20. Parça yönetici beyni ile davranan insanların/toplumların niteliklerini karşılaştırarak veren cümlelerle bitirilmiştir. Parçanın devamına yönetici beyni ile davranan insanların/toplumların başka niteliklerinin karşılaştırılarak verilmesini içeren, "İkelliğe, saldırganlığa, yıkıcılığa karşı uygarlığın, insancılığın, yapıcılığın gücünü ortaya koyar." cümlesi getirilebilir. Diğer seçenekler anlatımın akışına uygun değildir.

**CEVAP: C**

21. A seçeneğini I. cümleden, B seçeneğini II. cümleden, C seçeneğini III. cümleden D seçeneğini ise IV. cümleden çıkarabilmekteyiz. Paragrafta E seçeneğine değinilmemiştir.

**CEVAP: E**

22. III. cümlede "Depresyon; biyolojisi, tedaviye verdiği yanıtı, genetiği ve iyileşip iyileşmeyeceği hakkında öngörüsü açısından karmaşık ve heterojenik bir yapı gösteren psikolojik bir durumdur." cümlesiyle tanımlama yapılmıştır.

**CEVAP: C**

23. A seçeneğini parçanın genelinden çıkarabilmekteyiz, B seçeneğini IV. cümleden, C seçeneğini II. cümleden, D seçeneğini ise V. cümleden çıkarabilirken E seçeneğiyle ilgili herhangi bir bilgiye paragraftan ulaşamamaktayız.

**CEVAP: E**

24. "Çadır en basit şekliyle uçları tepede bir halka (çınırırak) etrafında birleştirilmiş sırickardan veya açılıp kapanabilen ahşap kafeslerden meydana getirilmekteydi." ifadesi III. cümlede geçmektedir.

**CEVAP: C**

25. I. cümlede "Çanakkale anısına" cümlesinde serginin amacı belirtilmiştir.

**CEVAP: A**

26. VI. cümlede "Sergiye şimdiden yoğun bir katılımın olacağını söylemek mümkün." ifadesinde tahmin söz konusudur.

**CEVAP: E**

**27 - 30 SORULARI İÇİN AÇIKLAMA**

	I. durum	II. durum
5	E → G	D
4	A →	B, F
3	C	C
2	D	E → G
1	B, F	A →

Dilek Fatih'ten bir sonraki katta inmiş Belma ve Fatih aynı hatta inmiş olduğundan Dilek, Belma ve Fatih'ten birlikte indiği katın bir üst katında asansörden inmiştir.

3. katta Canan tek başına indiğine göre, Belma ve Fatih ya 1. katta ya 4. katta asansörden birlikte inmişlerdir. Ahmet Efe'den bir önceki katta asansörden indiğinden tabloda 1. durumda 4 ve 5 katta 2. durumda ise 1. ve 2. katta asansörden inmişlerdir. Gül tabloda 1. durumda ise 1. veya 2. katta asansörden inmiş olabilir.

27. Belma 1. yada 4. katta asansörden inmiştir. 2. katta inemez.

**CEVAP: C**

## Genel Yetenek Testi

## Çözüm 1

28. Tabloda 1. durum göz önüne alındığında 1. katta kesinlikle 2 kişi inmiştir.

CEVAP: E

29. Ahmet tek başına iner.

CEVAP: A

30. Dilek inemez.

CEVAP: D

$$31. \frac{(0,3)^2}{0,5} + \frac{(0,2)^2}{0,1}$$

$$\left(\frac{3}{10}\right)^2 + \left(\frac{2}{10}\right)^2 = \frac{9}{100} + \frac{4}{100}$$

$$\Rightarrow \frac{9}{100} + \frac{4}{100} = \frac{13}{100} = 0,13$$

CEVAP: D

32.  $\sqrt[3]{0,8} \cdot (\sqrt[3]{1,25} - \sqrt[3]{0,64})$

$$= \sqrt[3]{\frac{8}{10}} \cdot \left(\sqrt[3]{\frac{125}{100}} - \sqrt[3]{\frac{64}{100}}\right)$$

$$= \sqrt[3]{\frac{8 \cdot 125}{10 \cdot 100}} - \sqrt[3]{\frac{8 \cdot 64}{10 \cdot 100}}$$

$$= \sqrt[3]{\frac{1000}{1000}} - \sqrt[3]{\frac{512}{1000}}$$

$$1 - \frac{8}{10} = \frac{2}{10} = 0,2$$

CEVAP: A

$$33. \frac{(5!)^3 + (4!)^3}{(5!)^3 - (4!)^3}$$

$$\Rightarrow \frac{(5 \cdot 4!)^3 + (4!)^3}{(5 \cdot 4!)^3 - (4!)^3}$$

$$\Rightarrow \frac{5^3 (4!)^3 + (4!)^3}{5^3 (4!)^3 - (4!)^3}$$

$$\Rightarrow \frac{(4!)^3 \cdot (5^3 + 1)}{(4!)^3 (5^3 - 1)} = \frac{126}{124} = \frac{63}{62}$$

CEVAP: B


34. Sayılar aşağıdaki gibi seçilmelidir.

$$\frac{10}{x} + \frac{10}{x} + \frac{10}{x} + \frac{12}{x} + \frac{x}{x} = 128$$

$$x = 86 \text{ bulunur.}$$

CEVAP: D

35. 221



OBEB (187,221) = 17 (iki ağaç arası mesafe)

$$\text{Ağaç sayısı} = \frac{\text{Dikdörtgenin çevresi}}{\text{İki ağaç arası mesafe}}$$

$$\frac{2 \cdot 221 + 2 \cdot 187}{17} = \frac{2 \cdot 408}{17} = 48$$

Fakat uzun kenarlardan birine duvar yapılacağından,

$$\frac{221}{17} + 1 = 13 + 1 = 14 \text{ ağaç dikilemeyeceğinden}$$

$$48 - 14 = 34 \text{ ağaç dikilmelidir.}$$

CEVAP: D

$$36. \frac{x}{y} \cdot \frac{z}{t} = \frac{1}{4} \Rightarrow \frac{x}{y} = \frac{t}{4z}$$

$$\frac{x^2}{y^2} + \frac{t^2}{z^2} = 153 \Rightarrow \left(\frac{t}{4z}\right)^2 + \frac{t^2}{z^2} = 153$$

$$\Rightarrow \frac{t^2}{16z^2} + \frac{t^2}{z^2} = 153$$

$$\Rightarrow \frac{17t^2}{16z^2} = 153$$

$$\Rightarrow \sqrt{\frac{t^2}{z^2}} = \sqrt{9 \cdot 16}$$

$$\Rightarrow \frac{t}{z} = 12 \text{ olduğundan}$$

$$\Rightarrow \frac{z}{t} = \frac{1}{12} \text{ olur}$$

CEVAP: C

$$37. \frac{x^3 y^2 + x^2 y^3}{x^2 - y^2} \cdot \frac{x^2 + y^2 - 2xy}{2x^2 y - 2xy^2}$$

$$\frac{x^2 y^2 \cdot (x+y)}{(x+y)(x-y)} \cdot \frac{(x-y)^2}{2xy \cdot (x-y)}$$

$$= \frac{xy}{2} \text{ 'dir.}$$

CEVAP: D

Genel Yetenek Testi

Çözüm 1

38.  $y - x < 0 < x + z < z$

$x + z < z \Rightarrow x < 0$  (x negatif)

$z > 0$ 'dir.  $y - x < 0 \Rightarrow y < x$  olduğundan  $y < x < z$  olur.

CEVAP: C

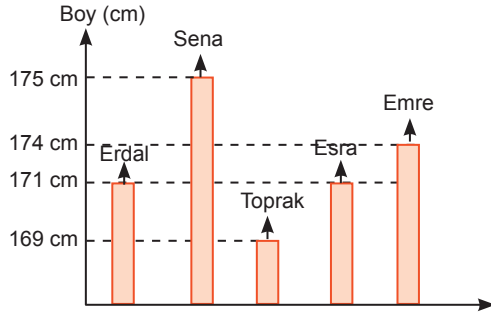
39.  $x^2 + |x| - 6 = 0 \quad |x| = 0 \Rightarrow x = 0$

$x < 0$	0	$x > 0$
$x^2 - x - 6 = 0$		$x^2 + x - 6 = 0$
$x = -2, x = 3$		$x = 2, x = -3$
(negatif olan alınır.)		(pozitif olan alınır.)

Ç.K =  $\{-2, 2\}$ 'dir.

CEVAP: E

40.



Buna göre Toprak'ın boyu 169 cm'dir.

CEVAP: D

41.  $f\left(f\left(\frac{a}{4}\right)\right) = -13$

$f\left(\frac{a}{4}\right) = 4 \cdot \frac{a}{4} - 5$   
 $= a - 5$

$f(a - 5) = -13$

$4 \cdot (a - 5) - 5 = -13$

$4a - 20 - 5 = -13$

$4a = -13 + 25$

$4a = 12$

$a = 3$

CEVAP: E

42.  $2^a = 5^b$  için

$2^{\frac{a}{b}} = 5$  olur.

$2^{\frac{a+2b}{b}} = 2^{\frac{a}{b} + 2}$

$= 2^{\frac{a}{b} + 2}$

$= 2^{\frac{a}{b}} \cdot 4$  için

$= 5 \cdot 4 = 20$  bulunur.

CEVAP: D

43.  $\frac{a}{a} < \frac{b}{a+2} < \frac{c}{a+4}$

$\left(1 + \frac{2}{a}\right) \cdot \left(1 + \frac{2}{b}\right) \cdot \left(1 + \frac{2}{c}\right) = \frac{19}{13}$

$\left(1 + \frac{2}{a}\right) \cdot \left(1 + \frac{2}{a+2}\right) \cdot \left(1 + \frac{2}{a+4}\right) = \frac{19}{13}$

$\left(\frac{a+2}{a}\right) \cdot \left(\frac{a+4}{a+2}\right) \cdot \left(\frac{a+6}{a+4}\right) = \frac{19}{13}$

$\frac{a+6}{a} = \frac{19}{13}$

$\Rightarrow 13a + 78 = 19a$

$\Rightarrow 6a = 78$

$a = 13$

$b = a + 2 \Rightarrow 13 + 2 = 15$  tir.

CEVAP: C

44.

(TUR)	S	B	T	M	K
1.	2	3	4	5	6
2.	8	9	12	10	18
3.	14	15	16	20	24
4.	22	21	28	25	30
5.	26	27	32	35	36
6.	34	33	40		

Buna göre, 40 numaralı kutu turuncuya boyanmıştır.

CEVAP: C

45. Mavi renge boyalı 5 tane kutu vardır.

CEVAP: B

## Genel Yetenek Testi

## Çözüm 1

46.

	Tramvay	Dolmuş
Erkek	2x	x
Kadın	y+20	y
	360	240

$$\begin{array}{r} 2x+y+20 = 360 \\ x+y = 240 \\ \hline 2x+y = 340 \\ - \quad x+y = 240 \\ \hline x = 100'dür. \end{array}$$

CEVAP: A

47. Kafiye sayısı toplam 100x olsun.

Ev sahibi	Konuk takım
(60x)	(40x)
1 dk'da 6 kişi	1 dk'da 1 kişi
20 dk'da 120	20 dk'da 20 kişi
$60x - 120 = \frac{(40x - 20)}{2}$	
$120x - 240 = 40x - 20$	
$80x = 220$	
$x = \frac{11}{4}$	
$100x = 100 \cdot \frac{11}{4} = 275$ kişi	

CEVAP: C

48. Maaşı = 100x olsun

$$\begin{array}{r} 100x \cdot \frac{40}{100} = 40x \\ 40x = 800 \cdot \frac{90}{1000} \\ 40x = 720 \\ x = 18 \\ \text{Buna göre, maaşı } 100x = 100 \cdot 18 \\ = 1800 \text{ TL'dir.} \end{array}$$

CEVAP: C

49. A 3 ayda 48 cm

1 ayda 16 cm  
x ayda (16x) cm olur.

B 3 ayda 12 cm

1 ayda 4 cm  
x ayda (36 + 4x) cm olur.

$16x = 3 \cdot (36 + 4x)$

$16x = 108 + 12x$

$4x = 108$

$x = 27'dir.$

CEVAP: E

50.  $500 \cdot \frac{2}{5} = 200$

$800 \cdot \frac{1}{2} = 400$

$\frac{200}{\%24} + \frac{400}{\%45} = \frac{600}{\%x}$

$\frac{200 \cdot 24}{100} + \frac{400 \cdot 45}{100} = \frac{600 \cdot x}{100}$

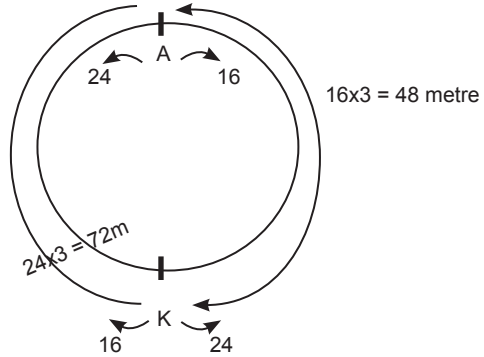
$48 + 180 = 6x$

$228 = 6x$

$x = \%38'dir.$

CEVAP: D

51.

Hızlı olan  $\cdot \frac{48}{24} = 2$  dk sonra A noktasına ulaşır.

CEVAP: A

52. x saat pratik kurs alınsın.

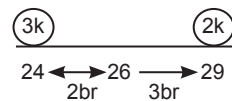
$240 + (x - 5) \cdot 6 = 150 + x \cdot 8$

$240 + 6x - 30 = 150 + 8x$

$60 = 2x \Rightarrow x = 30$

CEVAP: A

53. Kadın Erkek



$5k = 75$

$k = 15$

$\text{Kadın sayısı} = 3 \cdot 15 \\ = 45'dir.$

CEVAP: D

Genel Yetenek Testi

Çözüm 1

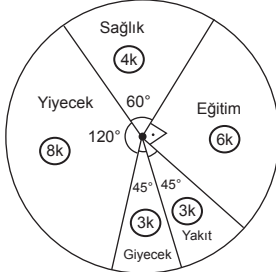
54.  $A = \{a, b, c, d, e, f\}$  kümesinin  $2^6 = 64$  tane alt kümesi vardır.

$\{d, e, f\}$  ortak elemanlar ortak elemanlardan oluşan  $2^3 = 8$  tanesi B'nin de alt kümesidir.

$64 - 8 = 56$  tanesi ortak değildir.

CEVAP: C

55.



$$480 \cdot \frac{5}{10} = 24 \text{ TL}$$

$$24k = 24 \Rightarrow k = 1$$

$$3k = 3 \cdot 1 = 3 \text{ TL'dir.}$$

CEVAP: A

56.  $3\cancel{0}\cancel{0} \cdot \frac{4}{1\cancel{0}\cancel{0}} = 12$

$$24k = 12 \Rightarrow k = 1/2$$

$$\text{Yakıt } 3k = 3 \cdot \frac{1}{2} = 1,5 \text{ TL}$$

CEVAP: B

57. ① ② ③ ④ ⑤

2 top çekilince  $5 \cdot 4 = 20$  durum oluşur.

(2,5)

(3,4) (3,5)

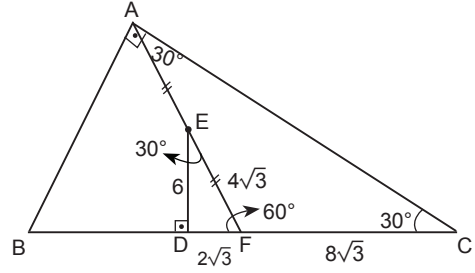
(4,3) (4,5)

(5,2) (5,3) (5,4)

$$\frac{8}{20} = \frac{2}{5} \text{ dir.}$$

CEVAP: C

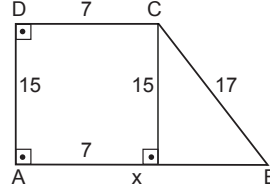
58.



Buna göre,  $|DC| = 10\sqrt{3}$

CEVAP: E

59.



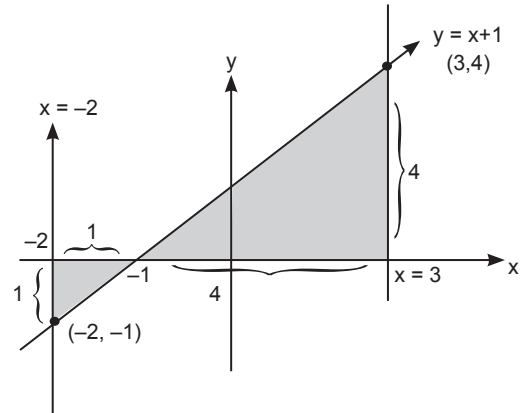
$$|HB|^2 + 15^2 = 17^2$$

$$|HB| = 8 \text{ dir.}$$

$$|AB| = 8+7=15 \text{ cm'dir.}$$

CEVAP: C

60.



$$\begin{aligned} \text{Alan} &= \frac{1 \cdot 1}{2} + \frac{4 \cdot 4}{2} \\ &= \frac{1}{2} + \frac{16}{2} \\ &= \frac{17}{2} \text{ cm}^2 \end{aligned}$$

CEVAP: D

## 1. Bu kitapçıkta 60 sorunun çözümü bulunmaktadır.

1. İslamiyet öncesi Türk devletlerinde toplumsal yapı Oguş (Aile) Urug (Sülale), Boy, Budun (Millet), İl (Devlet) şeklindedir. Yarlığ kağanın emirlerine verilen addır.

**CEVAP: C**

2. Peçenekler ve Oğuzlar Bizans ordusunda paralı askerlik yapmışlardır. Ayrıca Peçenekler Malazgirt Savaşı'nda taraf değiştirerek, Bizans ordusundan Selçuklu ordusuna geçmiştirlerdir.

**CEVAP: B**

3. Büyük Selçuklu Sultanı Sencer, Karahitaylarla yaptığı Katvan Savaşı'nda (1141) yenilmiş ve bu savaş devletin yıkılmasında etkili olmuştur.

**CEVAP: C**

4. Hicaz Bölgesi'ne hakim olan ilk Türk devleti Akşitler (İhşidler)'dir. Diğer özellikler Tolunoğulları'na aittir.

**CEVAP: B**

5. Muhyiddin İbnü'l Arabî Endülüs'te (İspanya) doğmuş, İslam coğrafyasını gezmiştir. Anadolu'da tasavvufun kurucusu kabul edilir. Ayrıca Türk tarihinde tasavvufun kurucusu Ahmet Yesevî'dir.

**CEVAP: A**

6. Osmanlı Devleti'nde nişancı; padişahın tuğrasını çeker. Yeni fethedilen toprakların kayıtlarını tutar. Tımarları dağıtır. Ayrıca memurların özlük haklarını düzenler. Ancak XVII. yüzyıldan itibaren dış işlerini reisülkütuba bırakmıştır.

**CEVAP: C**

7. Osmanlı Devleti'nin haçlılarla yaptığı ilk savaş I. Murat Dönemi'nde yaşanan Sırsındığı Savaşı'dır. II. Kosova Savaşı'yla II. Murat Dönemi'nde Balkanlar kesin Türk yurdu haline getirilmiştir. Mohaç Meydan Muharabesi ile Kanuni Macaristan'ı almıştır. Koyunhisar Savaşı Osman Bey Dönemi'nde Osmanlı Devleti'nin Bizans'la yaptığı ilk savaştır.

**CEVAP: D**

8. Kırım 1774 Küçük Kaynarca Antlaşması ile bağımsız olmuştur. 1779 Aynalıkavak Tenkihnamesi ile Osmanlı Rus yanlısı Şahin Giray'ın Kırım Hanı olmasını kabul etmiştir. 1792 Yaş Antlaşması ile Osmanlı Devleti Kırım'ın Rusya'ya ait olduğunu kabul etmiş, Karadeniz Türk gölü olmaktan tamamen çıkmış ve Osmanlı Devleti Dağılıma Dönemi'ne girmiştir.

**CEVAP: A**

9. Askerliğe bir süre getirilmesi, vatan hizmeti sayılması Tazminat Fermanı'nda yer almaktadır. Azınlıkların bedelli askerlik yapabilmesi, cizye vergisinin kaldırılması, dayak, işkence ve angaryanın yasaklanması ve azınlıkların da devlet memuru olmaları hükümleri Islahat Fermanı'nda yer alır.

**CEVAP: A**

10. Darüşşafaka (Şefkat yeri) 1863'te Sultan Abdülaziz zamanında kurulmuştur.

**CEVAP: C**

11. Osmanlı Devleti Trablusgarp'ın işgaline orduyla müdahale edemeyince bölgeye gazeteci kimliğiyle gizlice subaylar göndermiştir. Enver Paşa Hamdi Bey, M. Kemal ise Şerif Bey takma adlarını kullanmışlardır. M. Kemal *Tanin* gazetesi yazarı olarak bölgeye gitmiştir.

**CEVAP: B**

12. Müstakil Grup, 1945'te CHP'nin kendi içinde partiyi denetlemesi için parti içerisinde oluşturulmuştur.

**CEVAP: C**

13. Millî Mücadele'yi anlatan ilk roman Halide Edip Adıvar tarafından yazılan "*Ateşten Gömlek*"tir. Ayrıca *Türk'ün Ateşle İmtihani*, *Dağa Çıkan Kurt* eserleri de kendisine aittir. *Çocuk Davamız*, *İstiklâl Harbimiz*, *Ermeni Meselesi* ve *Paşaların Hesaplaşması* eserleri ise Kâzım Karabekir'e aittir.

**CEVAP: A**

14. Gediz Taarruzu Kuvayimillîye'nin başarısız taarruzdur. Aslıhanlar-Dumlupınar Muharebeleri, II. İnönü Savaşı'ndan sonra düzenli ordunun başarısız taarruzudur. Büyük Taarruz ise düzenli ordu tarafından başarıyla sonuçlandırılmıştır.

**CEVAP: B**

**Genel Kültür Testi****Çözüm 1**

15. Lozan Barış Konferansı'nda çözülemeyen tek konu Irak Sınırı (Musul) sorunudur. Sorunun çözümü Türkiye ile İngiltere arasında daha sonra yapılacak ikili görüşmelere bırakılmıştır.

**CEVAP: B**

16. Fethi Okyar Şeyh Said İsyanı'nı bastıramamış ve istifa etmiştir. Yerine İsmet İnönü Hükümeti kurulmuştur.

**CEVAP: A**

17. 1919-1927 yılları arasını anlatan ve M.Kemal tarafından günlük olarak kaleme alınan Nutuk, 1927 CHP kongresinde okunmuş ve iki cilt olarak basılmıştır. M. Kemal *Nutuk*'un dağıtım ve gelir hakkını Türk Hava Kurumuna bırakmıştır. *Nutuk*'un en son sayfasında Gençliğe Hitabe vardır.

**CEVAP: B**

18. Kıta sahanlığı sorunu Yunanistan ile Türkiye arasında yaşanan bir sorundur.

**CEVAP: D**

19. Tevfik Rüştü Aras 1925-39 yılları arasında dış işleri bakanlığı yapmıştır. Atatürk Dönemi'nde en uzun süre dış işleri bakanlığı yapmıştır.

**CEVAP: A**

20. M.Kemal'in Asım Us takma adıyla hükümeti eleştirmek için yazı yazdığı gazete *Kurun* gazetesidir.

**CEVAP: B**

21. Yunanistan ile yapılan Nüfus Mübadelesi Antlaşması ile İstanbul, Gökçeada, Bozcaada'da yaşayan Rumlar ve Batı Trakya'da yaşayan Türkler etabli (Yerleşik) sayılarak, mübadele dışında tutulmuştur.

**CEVAP: C**

22. *Cehennem Değirmeni* adlı eser Hüseyin Rauf Orbay'a aittir. Eser Mondros Ateşkesi'ni ve o dönemin bunalımlı yıllarını anlatır.

**CEVAP: D**

23. 1945 yılında düzenlenen San Francisco Konferansı BM Anayasası'nın oluşturulduğu konferanstır. Konferansa aralarında Türkiye'nin de bulunduğu 50 devlet katılmış ve Birleşmiş Milletler kurulmuştur.

**CEVAP: D**

24. Türkiye Japonya ile ticari ve siyasi ilişkiler içerisine girmiş ama hiçbir dönem asker yardımında bulunmamıştır.

**CEVAP: D**

25. Küresel ısınmayı azaltmak amacıyla yapılan, Kyoto Protokolü 2005'te yürürlüğe girmiştir. ABD, Çin ve Hindistan protokolü imzalamasına rağmen kurallara uymamaktadır. Sözleşme 2012'de 2020'ye kadar uzatılmıştır.

**CEVAP: A**

26. Cevdet Sunay 1966'da Cemal Gürsel'in ölümüyle cumhurbaşkanı olarak seçilmiş ve 1973'e kadar bu görevi yürütmüştür.

**CEVAP: C**

27. Millî Güvenlik Konseyi tarafından başbakan yardımcısı olarak atanan ve 24 Ocak Kararları'nı hazırlayan siyasetçi Turgut Özal'dır.

**CEVAP: D**

28. Iğdır'da pamuk, Çoruh vadisinde turuncgil tarımının yapılması mikroklimaya örnektir. Diğerleri Akdeniz iklimi etkisiyle görülür.

**CEVAP D**

29. Türkiye'de dağların doğu-batı yönünde uzanması levhaların sıkıştırma yönüyle ilgilidir.

Diğerleri geç zamanda oluştuğunun kanıtıdır.

**CEVAP E**

30. Verilen göllerin oluşumunda heyelan setleşme etkili olmuştur.

**CEVAP D**

31. Karstik kayaçların mağara, obruk, kanyon, traverten oluşumları turizmi olumlu etkilemiştir. Ulaşımı olumsuz etkilemiştir. Yayılcılık ve seracılık üzerinde ise etkisi bulunmamaktadır.

**CEVAP A**

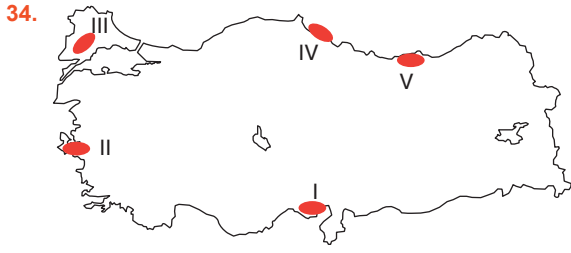
32. Haritada I numaralı Toroslar ve III numaralı Kaçkarlar da çığ tehlikesi fazladır.

**CEVAP B**

33. Türkiye'de farklı yer şekillerinin varlığı dağ ve vadi meltemi, üç tarafının denizlerle çevrili olması kara ve deniz melteminin olmasına neden olmuştur.

**CEVAP D**



**Genel Kültür Testi****Çözüm 1**

Haritada V ile gösterilen Doğu Karadeniz'de yükselti fazla olduğu için yamaç yağışları daha fazla görülür.

**CEVAP E**

35. Soruda verilen endemik türlerden Istranca Meşesi Yıldız Dağları ve Zonguldak çevresinde görülmektedir.

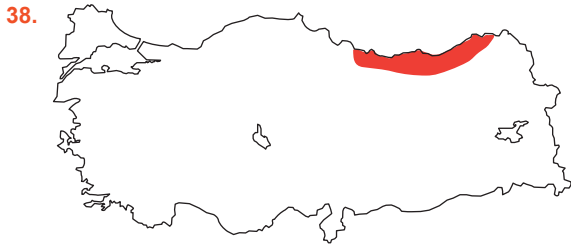
**CEVAP D**

36. Türkiye'de toplam nüfus miktarı sürekli artmış, diğerleri dalgalı seyretmiştir.

**CEVAP A**

37. Türkiye'de cumhuriyet tarihi boyunca kentsel nüfusun artmasında öncülde verilenlerin tümü etkili olmuştur.

**CEVAP E**



Haritada taranarak gösterilen Doğu Karadeniz'de yağış rejimi düzenli olduğu için üzüm üretimi daha az yapılmaktadır.

**CEVAP E**

39. Soruda verilenlerin tümü Karadeniz'de balıkçılığın gelişmesinde etkili olmuştur.

**CEVAP E**

40. Bor madeni volkan kökenli değil tortul minerallerden oluşur ve çıkarım alanı geniş değil dardır. Diğer verilenler doğrudur.

**CEVAP B**

41. Soruda önemli çıkartım yerleri verilen yer altı kaynağı petroldür.

**CEVAP D**

42. Türkiye'de verilen sanayi kollarından pamuklu dokuma (tekstil) diğerlerine göre daha yaygındır.

**CEVAP B**

43. Çubuk ve Gülek geçitleri Akdeniz'de, Zigana Karadeniz'de, Sabuncubeli ise Ege'de bulunmaktadır.

**CEVAP C**

44. Olimpos (Bey Dağları) Millî Parkı Antalya'da bulunmaktadır.

**CEVAP D**

45. Soruda KOP ile ilgili verilen bilgilerin tümü doğrudur.

**CEVAP E**

46. 1. Anayasa  
2. Kanunlar (OHAL CB. Kararnamesi-Milletlerarası Antlaşmalar)  
3. Cumhurbaşkanlığı Kararnameleri  
4. Yönetmelikler  
5. Genelge/Yönerge

**NOT:** 24 Haziran 2018 tarihi itibarıyla hukuk düzenimizde kanun hükmünde kararnameler ve tüzük denen normlar çıkarılmıştır.

**CEVAP: C**

47. **Kuvvet Kullanma Hâli:** Devlet müdahalesinin gecikebileceği durumlarda bir kişinin kuvvet kullanarak hakkını korumasıdır.

**CEVAP: E**

48. **Siyasi Haklar ve Ödevler (Aktif Statü Hakları / Katılımcı Haklar)**

1. Türk vatandaşlığı
2. Seçme ve seçilme ve siyasi faaliyette bulunma hakkı
3. Siyasi partilerle ilgili hükümler
  - a. Parti kurma, partilere girme ve partilerden ayrılma hakkı
  - b. Siyasi partilerin uyacakları esaslar
4. Kamu hizmetlerine girme hakkı
  - a. Hizmete girme
  - b. Mal bildirim
5. Vatan hizmeti
6. Vergi ödevi
7. Dilekçe, bilgi edinme ve kamu denetçisine başvurma hakkı

**NOT:** Haberleşme hürriyeti; Kişinin Hakları ve Ödevleri (Negatif Statü Hakları/ Koruyucu Haklar) içinde yer alır.

**CEVAP: D**

## Genel Kültür Testi

## Çözüm 1

49. Türkiye Büyük Millet Meclisi, geri gönderilen kanunları **üye tamsayısının salt çoğunluğuyla** aynen kabul ederse, kanun Cumhurbaşkanınca yayımlanır. Reddedilirse 1 yıl süreyle TBMM'ye aynen sunulamaz.

**CEVAP: B**

50. Cumhurbaşkanının hastalık ve yurt dışına çıkma gibi sebeplerle geçici olarak görevinden ayrılması hallerinde, Cumhurbaşkanı yardımcısı Cumhurbaşkanına vekâlet eder ve Cumhurbaşkanına ait yetkileri kullanır.

**CEVAP: C**

### 51. Yüce Divanda Yargılananlar

- ✓ Cumhurbaşkanı,
- ✓ TBMM Başkanı,
- ✓ Cumhurbaşkanı yardımcıları,
- ✓ Bakanlar,
- ✓ Anayasa Mahkemesi Yargıtay, Danıştay Başkan ve üyeleri,
- ✓ Başsavcı ve Cumhuriyet Başsavcivekili,
- ✓ Hâkimler ve Savcılar Kurulu ve Sayıştay Başkan ve üyeleri,
- ✓ Genelkurmay Başkanı,
- ✓ Kara, Deniz ve Hava Kuvvetleri Komutanları **görevleriyle ilgili suçlardan dolayı Yüce Divanda yargılanırlar.**

**NOT:** Jandarma Genel Komutanı, İçişleri Bakanlığına bağlanmıştır.

**CEVAP: E**

52. Bankacılık Denetleme ve Düzenleme Kurulu, hizmet yerinden yönetim kuruluşları içinde yer alır.

**CEVAP: A**

### 53. T.C. Devlet İdaresinin Belli Başlı Görevleri

- ✓ Millî güvenliği sağlamak (CB.)
- ✓ Kolluk faaliyetlerinde bulunmak
- ✓ Özendirme ve teşvik faaliyetlerinde bulunmak
- ✓ İç düzen faaliyetleri yapmak
- ✓ Kamu hizmetleri sunmak

**CEVAP: E**

54. Terör ya da yüz kızartıcı suçlardan hüküm giyenlere uygulanan disiplin cezası, devlet memurluğundan çıkarılmadadır.

**CEVAP: E**

55. Türkiye, Meis Adası bölgesinde **NAVTEX** ilan etmiştir.

**CEVAP: D**

56. Dünyaca ünlü kalp cerrahisi ve televizyon programı sunucusu Dr. Mehmet Öz, Şöhretler Yolu'na adı yazılacak ilk Türk olmuştur.

**CEVAP: A**

57. Fatih Sondaj Gemisi Karadeniz'de 320 milyar metre-küp doğal gaz rezervi bulmuştur.

**CEVAP: B**

58. 2023 Cumhurbaşkanlığı Kültür ve Sanat Büyük Ödülü'ne edebiyat alanında layık görülen, Nar Ağacı, MIMOZA SÜRGÜNÜ ve Kelime Defteri adlı eserleri kaleme alan yazarımız Nazan Bekiroğlu'dur.

**CEVAP: B**

59. 14.476 m (47.493 ft) uzunluğuyla ülkenin en uzun kara yolu tüneldir. Zigana geçidi, Gümüşhane ilimize bağlı Torul ilçesi sınırları içerisinde ismini verdiği dağlarındadır. Zigana Geçidi Gümüşhane'den 60, Trabzon'dan 120 kilometre uzaklıkta yer alır.

**CEVAP: A**

60. 2023 yılında Portekiz'in ev sahipliğinde gerçekleştirilen şampiyonada Türk sporcularımız Kick Box dalında 10'u altın, 17'si gümüş ve 14'ü bronz olmak üzere toplamda 41 madalya kazanmıştır.

**CEVAP: C**